



フォッコをつかまえよう！

かけ算の意味①



フォッコ
キツネポケモン
タイプ▶ほのお
たかさ▶0.4m
おもさ▶9.4kg

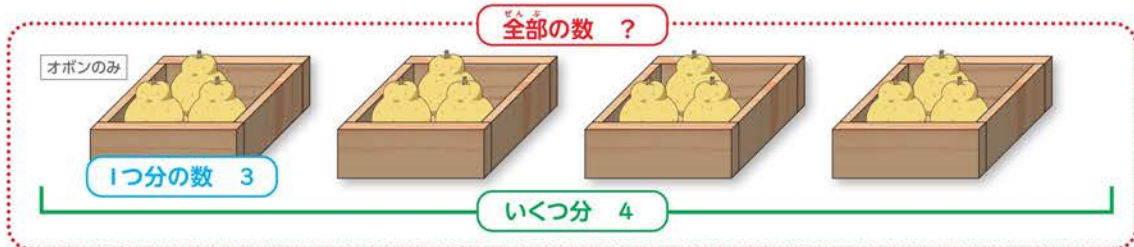
点

60点以上で
「クリア！
シール」を
はれるよ！

はじめにここを読もう！

【「同じ数ずついくつ分」の全部の数をもとめるときには、かけ算を使う】

問題 きのみが1箱に3こずつ入っています。4箱分の数は、いくつですか。



このことをかけ算の式に書くと、

1つ分の数

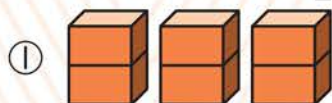
いくつ分

全部の数

答えをもとめるには、3のだんの九九を使うよ。
「三四12」で12だね。

$$3 \times 4 = 12 \quad \text{だから きのみは全部で } \boxed{12} \text{ こ。}$$


I かけ算の式に書きましょう。1もん20点



①

ブロック2こずつが
3つつだね。

$$\square \times \square = \square$$



②

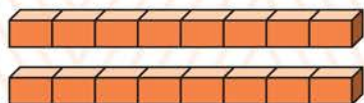
$$\square \times \square = \square$$



③

花びら7まいが
3つつだね。

$$\square \times \square = \square$$



④

$$\square \times \square = \square$$

⑤ きのみが6こずつ入った箱が、9箱あります。きのみは全部で こです。

$$\square \times \square = \square$$

クリアした日

月 日



ニャスパーをつかまえよう!

かけ算の意味②



点

60点以上で
「クリア!
シール」を
はれるよ!

はじめにここを読もう!

【「1つ分の□倍」のときもかけ算を使う】

右のテープは2cmの5倍の長さです。

「2cmの5倍」は、

「2cmの5つ分」と同じなので、

このことをかけ算の式に書くと、

1つ分の長さ

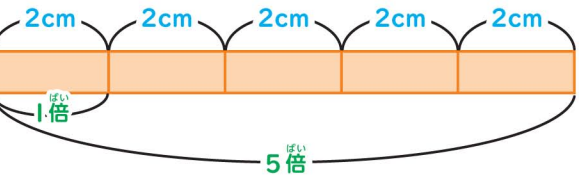
倍の数

全部の数

$$2 \times 5 = 10 \quad \text{だから テープの長さは } 10\text{cm}。$$

問題 2cmの6倍の長さは何cmですか。

答え 2cmの6つ分だから、 $2 \times 6 = 12$ で 12cm です。




答えをもとめるには、2のだんの九九を使うよ。
「二五10」で10だね。



ニャスパー
じせいポケモン
タイプ エスパー
たかさ ▶ 0.3m
おもさ ▶ 3.5kg

I かけ算の式に書きましょう。①~④ 15点 ⑤, ⑥ 20点

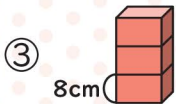


$$2\text{cmの}9\text{倍} \quad \square \times \square = \square$$

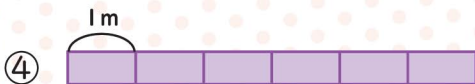
2cmが9つ分のことだね。



$$3\text{cmの}5\text{倍} \quad \square \times \square = \square$$



$$8\text{cmの}3\text{倍} \quad \square \times \square = \square$$



$$1\text{mの}6\text{倍} \quad \square \times \square = \square$$

⑤ 5cmの7倍

$$\square \times \square = \square$$

⑥ 6mの4倍

$$\square \times \square = \square$$

クリアした日

月 日