



ツタージャを つかまえよう!

1年生の ふくしゅう①



てん
点

てん
65点以上で
「クリア!
シール」を
はれるよ!

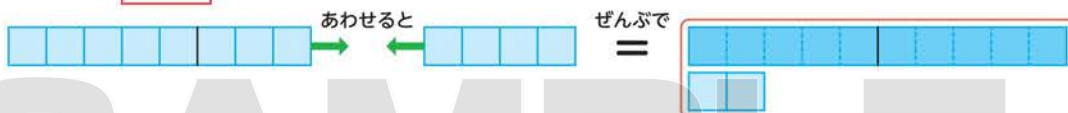
はじめに ここを 読もう!

【たし算^{さん}】

① $4 + 2 = 6$



② $8 + 4 = 12$



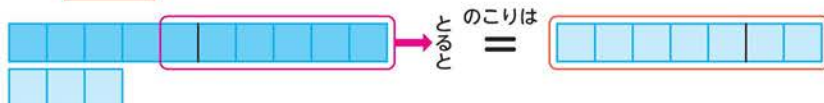
ツタージャ
くさへびポケモン
タイプくさ
たかさ▶0.6m
おもさ▶8.1kg

【ひき算^{さん}】

① $7 - 3 = 4$



② $13 - 6 = 7$



1 たし算を しましょう。1つ5点

① $6 + 2 =$

② $4 + 3 =$

2 ひき算を しましょう。1つ5点

① $9 - 7 =$

② $8 - 4 =$

▼つぎの ページに つづくよ

3 たし算を しましょう。 1つ8点

① $5+9=$

② $7+6=$

③ $9+8=$

④ $6+0=$

4 ひき算を しましょう。 1つ8点

① $13-8=$

② $11-3=$

③ $17-9=$

④ $5-0=$

SAMPLE
not for sale

5 計算を しましょう。 1つ8点

① $2+3+1=$

② $10-7+6=$



ジャノビー



ジャローダ

クリアした日

月 日



パニプッチを つかまえよう!

1年生の ふくしゅう②



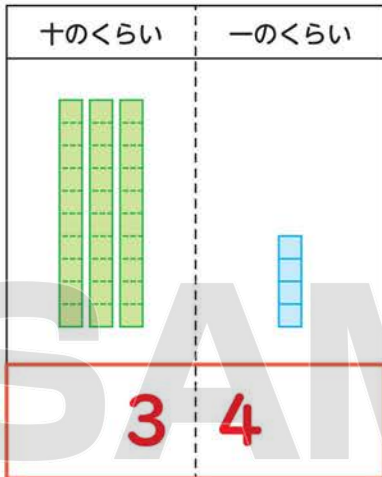
てん
点
てん
60点以上で
「クリア!
シール」を
はれるよ!

パニプッチ
しんせつポケモン
タイプ▶こおり
たかさ▶0.4m
おもさ▶5.7kg

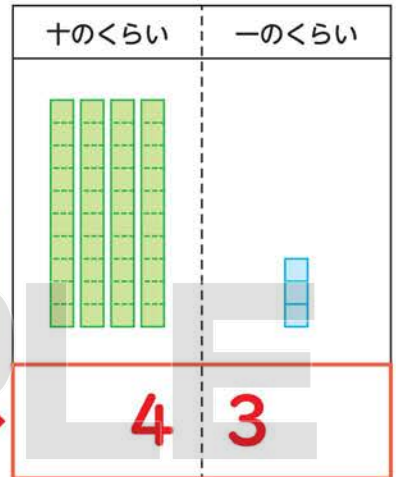
はじめに ここを 読もう!

【2けたの 数の しくみ】

じゅうの まとまりが 3と いちが 4



じゅうの まとまりが 4と いちが 3

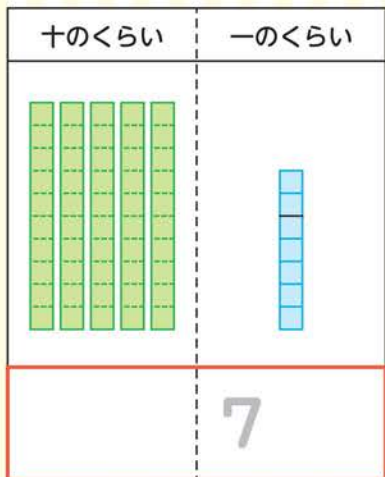


数字の じゅんばんが
ちがうと、
数も ちがったね!

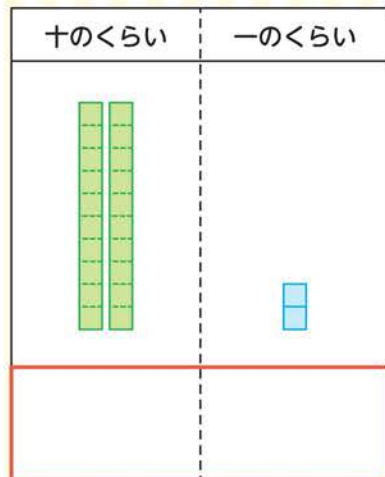
I 数字で 書きましょう。

① 20点 ② 40点 ③ 40点

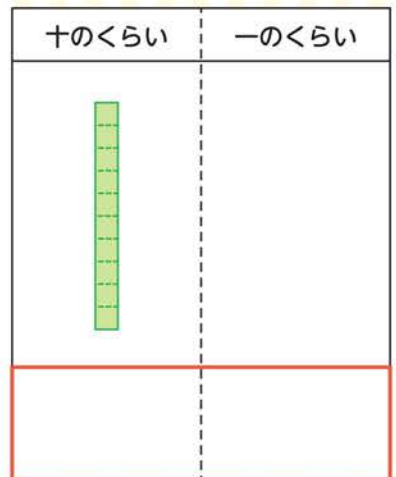
①



②



③



クリアした日

月 日