



ヒノアラシを つかまえよう!

たしざん①



てん
75てん
いじょうで
「クリア!
シール」を
はれるよ!

はじめに ここを よもう!

ブロックが 1 こと 2 こ あります。ぜんぶで なんこですか。



1 と 2 で 3

こたえ

3

こ



ヒノアラシ

ひねずみポケモン
タイプ▶ほのお
たかさ▶0.5m
おもさ▶7.9kg

1 もんだい文を よんで、□ に かずを かきましょう。 1つ25てん

① ブロックが 3 こと 1 こ あります。ぜんぶで なんこですか。





3 と 1 で 4

4

こ

② 花が 2 ほん と 3 ほん さいています。ぜんぶで なんほん さいていますか。



□

ほん

③ モンスターボールが 1 こと 6 こ あります。ぜんぶで なんこですか。



□

こ

④ ヒノアラシが 7 ひき と 3 ひき います。ぜんぶで なんひきですか。



□

ひき

クリアした 日

が 月

に 日



パールを つかまえよう!

たしざん②

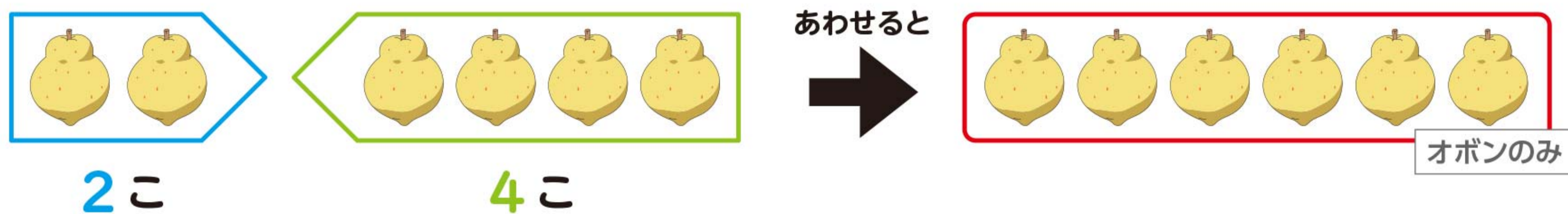


てん
60てん
いじょうで
「クリア!
シール」を
はれるよ!

パール
2まいがいポケモン
タイプ▶みず
たかさ▶0.4m
おもさ▶52.5kg

はじめに ここを よもう!

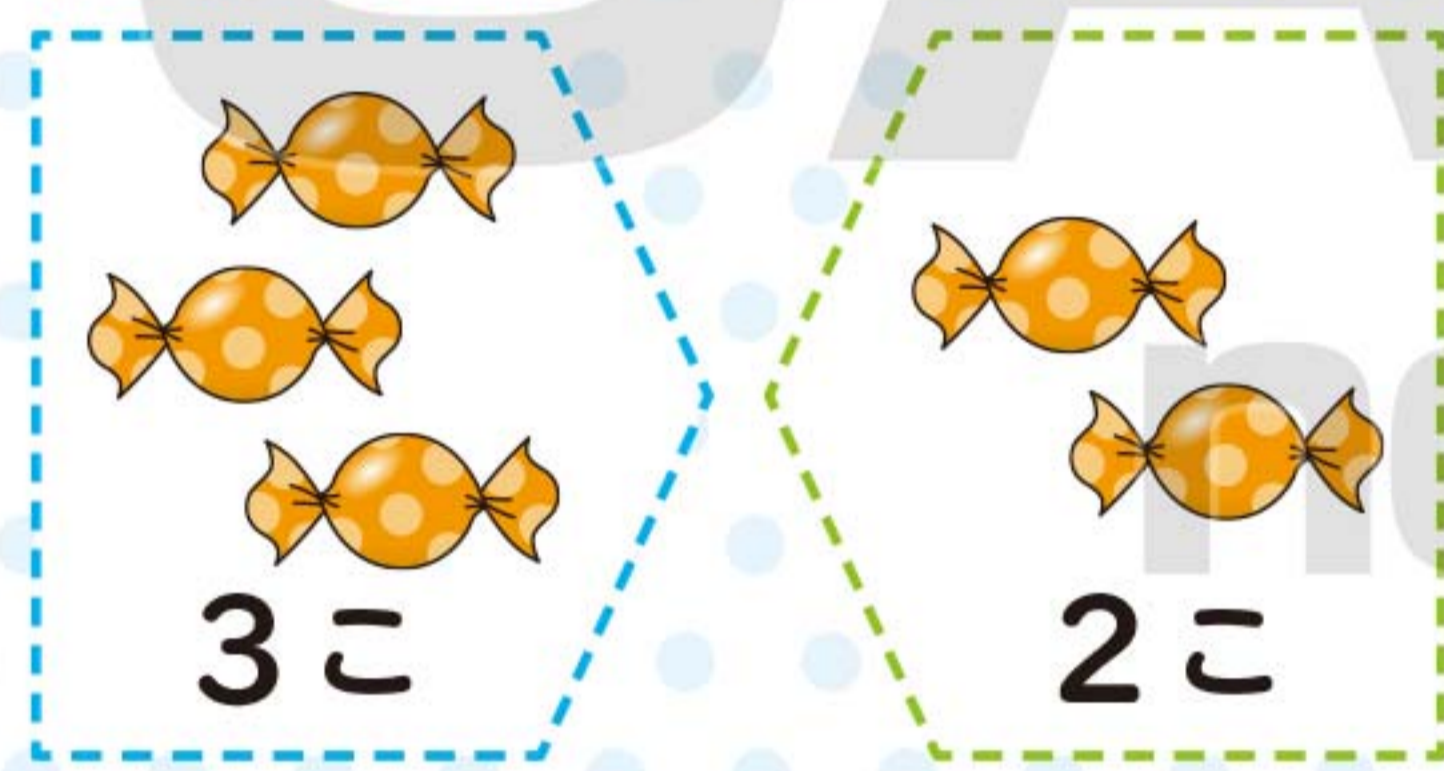
オボンのみが **2** こと **4** こ あります。
あわせて なんこですか。しきと こたえを かきましょう。



しき $2 + 4 = 6$ こたえ **6** こ

1 えを ^み見て しきと こたえを かきましょう。 ① 20てん ②③ 1つ40てん

① あわせて なんこですか。



しき

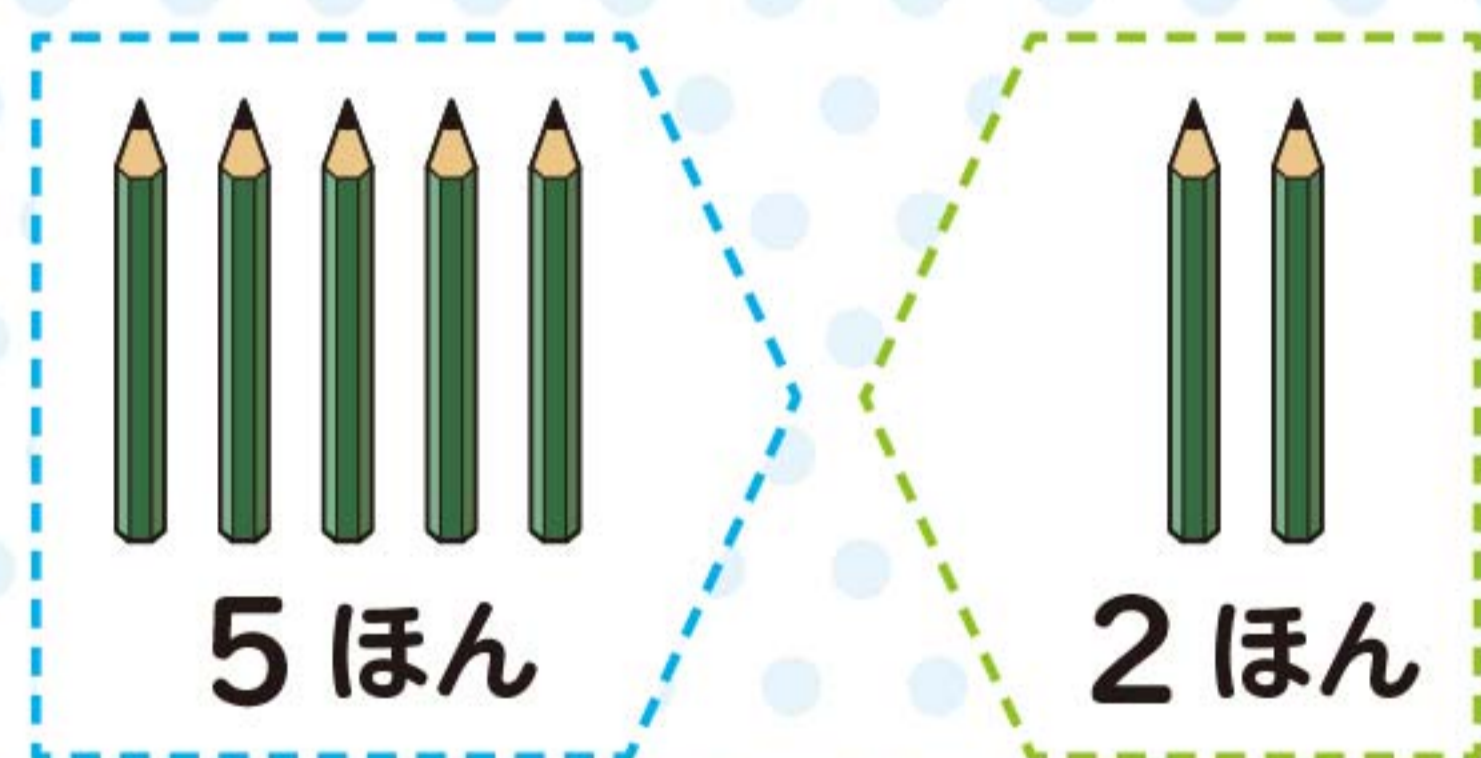
$3 + 2 = 5$

こたえ

5

こ

② ぜんぶで なんほんですか。

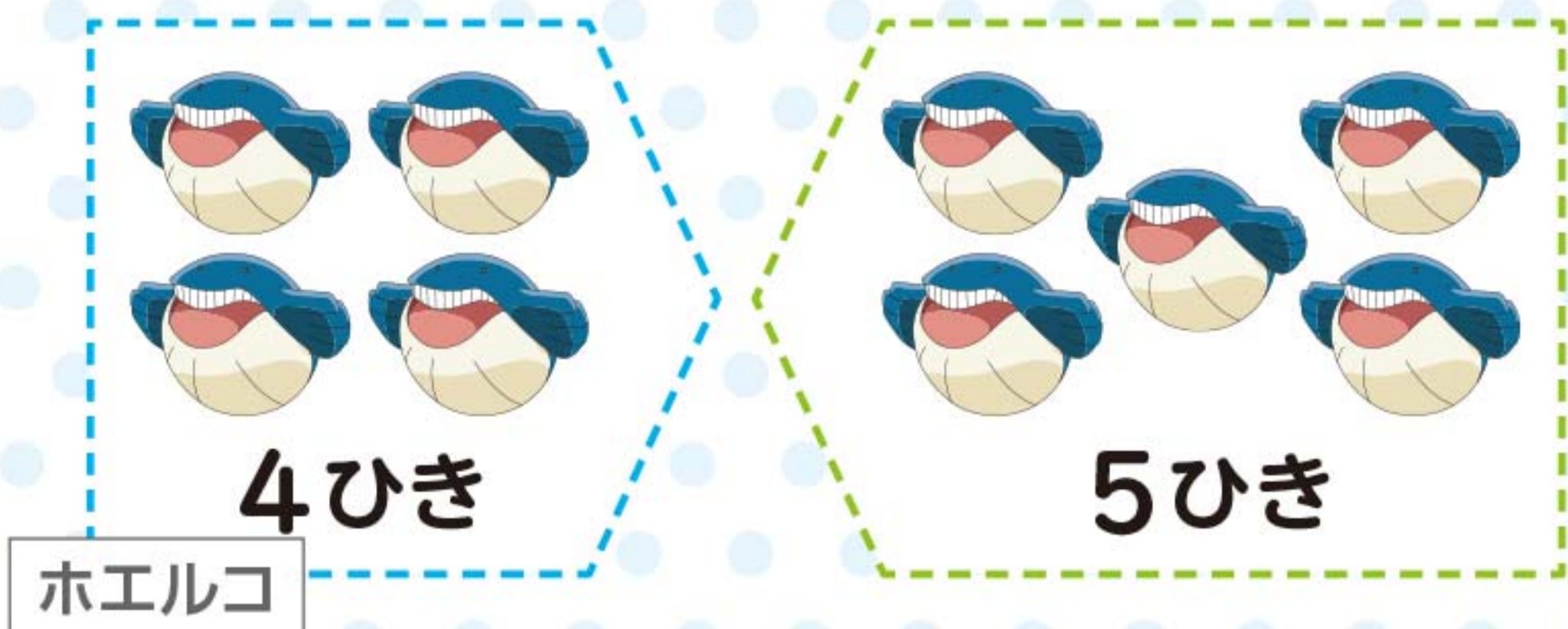


しき

こたえ

ほん

③ あわせて なんびきですか。



しき

こたえ

ひき

クリアした 日

がっ
月

にち
日