


Calcul

Calcule.

$2 \times 4 =$

$2 \times 6 =$

$2 \times 8 =$



Numération

200

500


400

Calcul

Pose et calcule ces opérations .


$203 + 112$

$216 + 205$



Calcul

Combien y a-t-il de yaourts ?

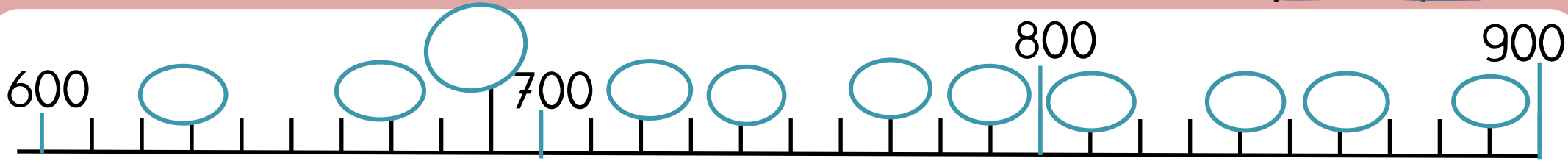



$$\underline{\quad} \times \underline{\quad} = \underline{\quad}$$



Numération

Ecris les nombres dans les bulles.





Calcul

Calcule.

$$3 \times 4 =$$

$$3 \times 5 =$$

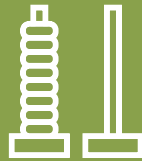
$$3 \times 6 =$$

Problème

Ce matin, Tirobot a 65 billes. Il joue et il lui reste 40 billes à la fin de la récré.

Combien de billes a perdu Tirobot ?





Calcul

Calcule.

$3 \times 4 = \underline{\quad}$

$3 \times 5 = \underline{\quad}$

$3 \times 6 = \underline{\quad}$

Numération

Représente le nombre **562**.Tu as **16** cartes de 1Tu as **30** cartes de 10Tu as **5** cartes de 100