

Numération

Écris l'opération avec le signe + et calcule.

--	--	--	--	--	--

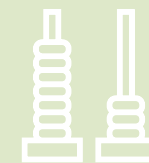
--	--	--	--	--	--

_____	+	_____	=	_____
-------	---	-------	---	-------

Écris l'opération avec le signe X.

_____	X	_____	=	_____
-------	---	-------	---	-------





Calcul

Combien y a-t-il de yaourts ?

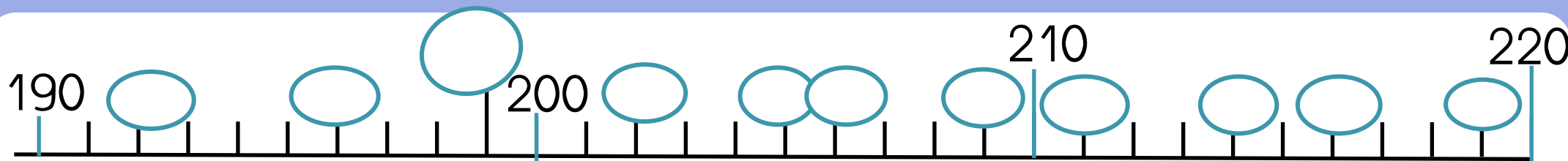


$$\underline{\quad} + \underline{\quad} + \underline{\quad} = \underline{\quad}$$

$$\underline{\quad} \times \underline{\quad} = \underline{\quad}$$

Numération


Ecris les nombres dans les bulles.







Numération

Écris l'opération avec le signe + et calcule.

 $\underline{\quad} + \underline{\quad} + \underline{\quad} + \underline{\quad} + \underline{\quad} = \underline{\quad}$




Écris l'opération avec le signe X.

 $\underline{\quad} \times \underline{\quad} = \underline{\quad}$ 



Numération

Écris l'opération avec le signe + et calcule.



$$\underline{\quad\quad\quad} + \underline{\quad\quad\quad} + \underline{\quad\quad\quad} = \underline{\quad\quad\quad}$$

Écris l'opération avec le signe X.

$$\underline{\quad\quad\quad} \times \underline{\quad\quad\quad} = \underline{\quad\quad\quad}$$

