


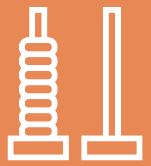
Numération

Écris l'opération avec le signe + et calcule.

 $\underline{\quad} + \underline{\quad} + \underline{\quad} + \underline{\quad} = \underline{\quad}$



Écris l'opération avec le signe X.

 $\underline{\quad} \times \underline{\quad} = \underline{\quad}$



Calcul

Écris l'opération qui aidera Tirobot à calculer pour trouver le nombre de gâteaux.

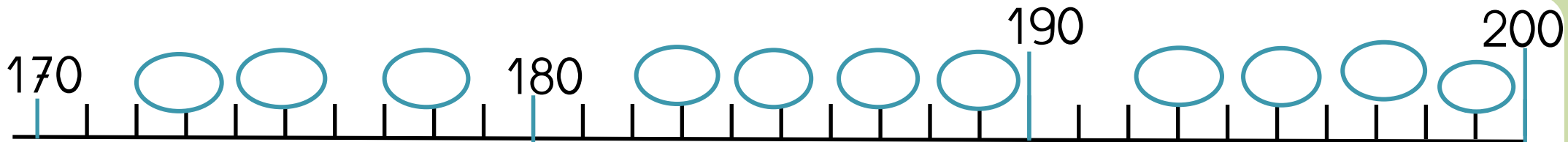


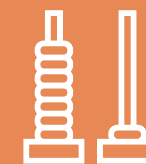
$$\underline{\quad} + \underline{\quad} + \underline{\quad} = \underline{\quad}$$

$$\underline{\quad} \times \underline{\quad} = \underline{\quad}$$

Numération

Ecris les nombres dans les bulles.





Numération

Ecris les nombres juste avant et juste après.

234

199

450

Calcul

Ecris une opération avec le signe X et calcule.

$5+5+5=$


$2+2+2+2=$

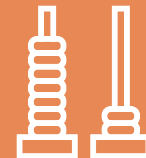
$10 + 10 + 10 =$

Numération

Ecris le nombre :

Tu as 1 carte de 100 et 9 cartes de 10 et 5 cartes de 1.





Numération

Représente le nombre 187.

Calcul

$102 + 102 =$

$217 + 435 =$

$542 + 127 =$

Problème

Tirobot a 3 boites de billes. Dans chaque boite. Il y a 12 billes.
Combien de billes a Tirobot?

