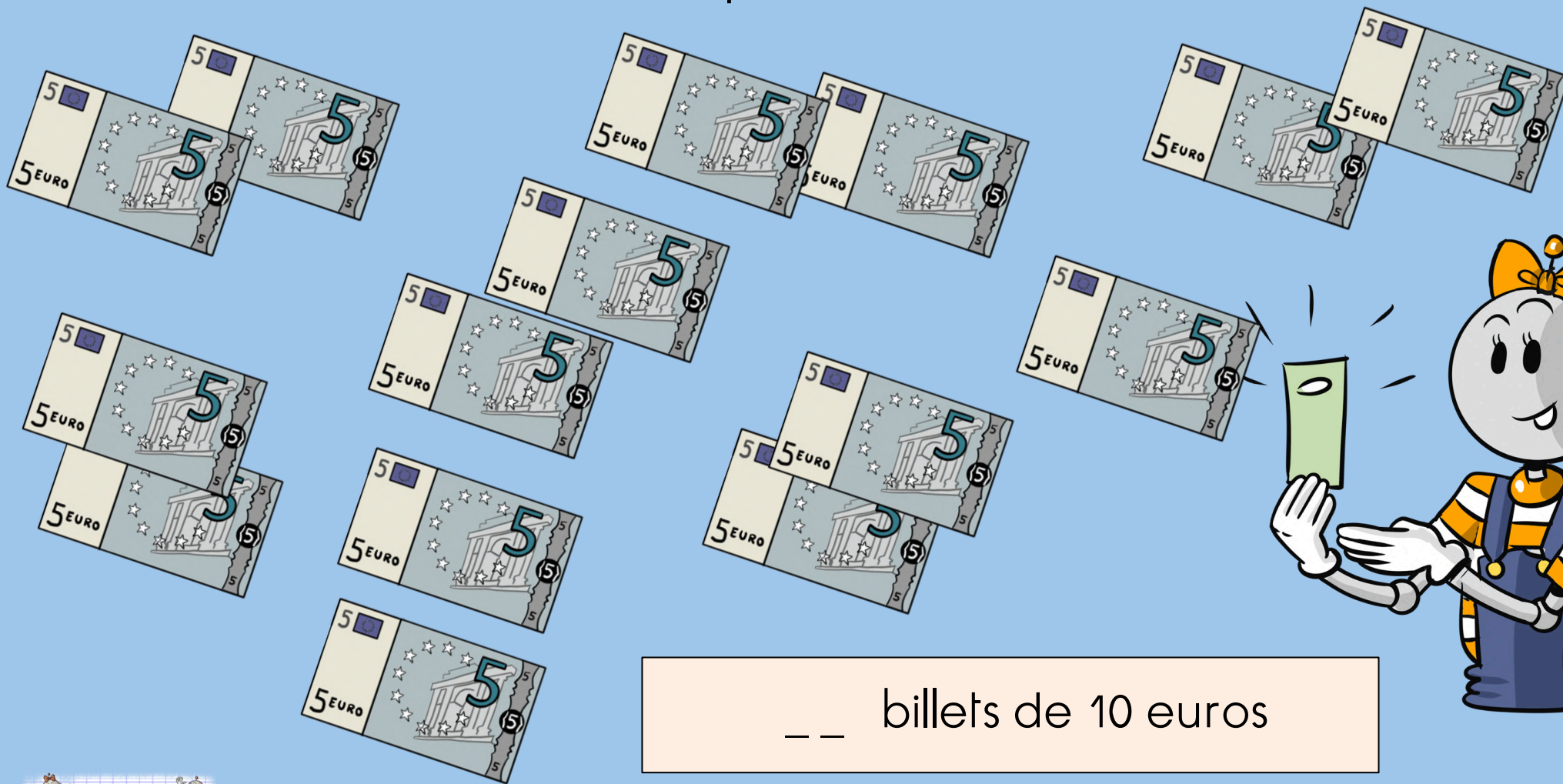
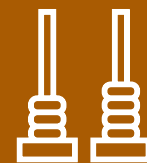


## Numération

Combien de billets de 10 euros , Robotine peut-elle avoir à la place de ces billets de 5 € ?





## Numération

Range les nombres du plus grand au plus petit.


19    99    39    29    59

## Calcul

$75 - 5 =$

$79 - 30 =$

$89 - 9 =$

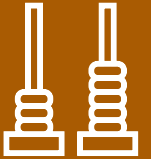


## Problème

Robotine a 2 paquets de 10 billes .

Combien de billes a Robotine?

--	--	--	--	--	--	--	--	--	--	--	--	--	--	--	--



Numération

Décompose les nombres comme le modèle  
 $32 = 30 + 2$

$76 =$

$89 =$

$56 =$

$28 =$

Calcul

$60 + 8 =$

$70 + 9 =$


$6 + 50 =$

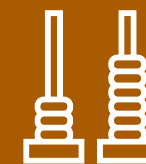
Numération

Ecris en lettres.

32:

54:





Numération

Compare et utilise les signes  $>$  ou  $<$ 

83



89

78



19

57



60

Calcul

$$54 - 30 =$$

$$69 - 20 =$$

$$47 - 40 =$$

Numération

Ecris les nombres de 79 à 99 :

