



Numération

Ecris en lettres comme le modèle 3 : trois

35 :

28 :

19 :


Calcul

$10 + 10 =$

$10 + 20 =$

$30 + 10 =$

$40 + 20 =$



Problème

Robotine a 2 boites de billes. Dans chaque boite, il y a 7 billes.

Combien de billes a t-elle en tout?

--	--	--	--	--	--	--	--	--	--	--	--	--	--	--	--	--	--	--	--



Numération

$4d \ 7u =$

$6d \ 3u =$

$7 \ d =$

$76 \ u =$

Calcul

$10 + 10 + 10 =$

$30 + 10 + 20 =$

$30 + 10 + 20 =$



Numération

Trouve les nombres sur la droite numérique.





Numération

Écris les nombres de 50 à 79.

Calcul

$10 + ? = 30$


$30 + ? = 40$

$40 + ? = 70$

Problème

Tirobot joue aux billes. Il a 30 billes. Il en perd 10 .

Combien de billes a t-il maintenant?

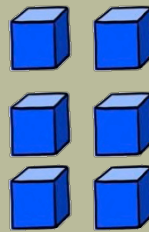
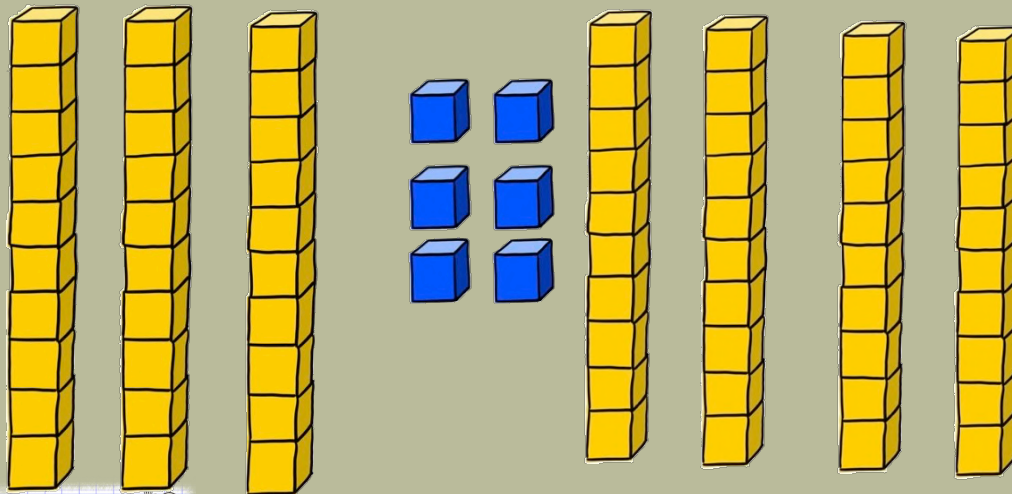





Numération

Qui en a le plus ?

D	U



D	U

