


PRÉNOM :

Evaluations de rentrée Septembre 2023

CE1



signature des parents :

PRÉNOM : _____

Évaluations CE1 Rentrée

FRANCAIS

3.

Je coche le mot correspondant au dessin.



- la voiture
- la voile
- le vélo
- la maison



- le jour
- la soupe
- le journal
- la bouche




- une banane
- une torche
- un tapis
- une tomate



- le chou
- le chat
- le chapeau
- la poche



- un pirate
- une pile
- une porte
- une piscine



- le garçon
- le râteau
- le gâteau
- le château




- le cou
- la coupe
- le loup
- la loupe



- la voisine
- la vache
- la valise
- la voiture



- le riz
- la moto
- le veau
- le rideau



- le sol
- le soleil
- la volaille
- la selle


PRÉNOM : _____

Évaluations CE1 Rentrée

FRANCAIS

4.

Je coche la phrase correspondant au dessin.



- Le robot chante.
- Le robot dort.
- Le robot mange .



- Robotine lit.
- Robotine marche.
- Robotine danse.



- Il lit un livre.
- Il tape dans un ballon
- Il mange un gâteau.



- Le facteur apporte une lettre.
- Le docteur apporte une lettre.
- Le facteur est dans sa voiture.

PRÉNOM : _____

Évaluations CE1 Rentrée

MATHS

1 Calcule ces additions en ligne.

$2 + 5 = \underline{\quad}$

$4 + 4 = \underline{\quad}$

$7 + 7 = \underline{\quad}$

$10 + 3 = \underline{\quad}$

$10 + 7 = \underline{\quad}$

$10 + 10 = \underline{\quad}$

$30 + 6 = \underline{\quad}$

$40 + 30 = \underline{\quad}$

$32 + 21 = \underline{\quad}$



2 Calcule ces additions en colonne :

$25 + 12 =$

| | |
|-------|-----|
| 2 | 5 |
| + | 1 2 |
| <hr/> | |
| . | . |
| | |
| | |
| | |
| | |

$61 + 13 =$

| | |
|-------|-----|
| 6 | 1 |
| + | 1 3 |
| <hr/> | |
| . | . |
| | |
| | |
| | |
| | |

$41 + 14 =$

| | |
|-------|---|
| . | . |
| + | . |
| <hr/> | |
| . | . |
| | |
| | |
| | |
| | |



3. Calcule ces soustractions en ligne.

$8 - 3 = \underline{\quad}$

$9 - 5 = \underline{\quad}$

$7 - 6 = \underline{\quad}$

$13 - 2 = \underline{\quad}$

$15 - 5 = \underline{\quad}$

$19 - 3 = \underline{\quad}$

$40 - 10 = \underline{\quad}$

$30 - 10 = \underline{\quad}$

$50 - 20 = \underline{\quad}$

PRÉNOM : _____

Évaluations CE1 Rentrée

MATHS

1. Écris les nombres.

| | | | | | | | | | |
|--|--|--|--|--|--|--|--|--|--|
| | | | | | | | | | |
|--|--|--|--|--|--|--|--|--|--|

2. Range les nombres du plus petit au plus grand.

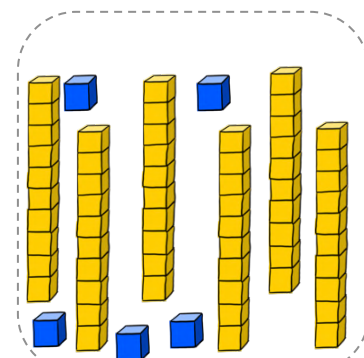
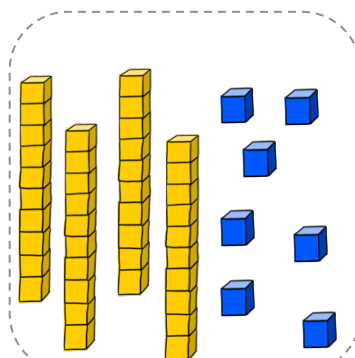
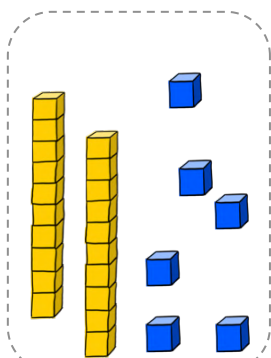
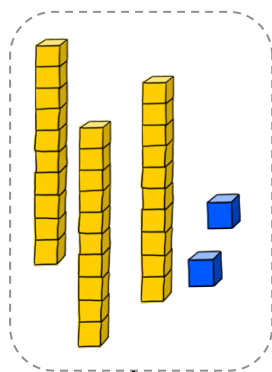
17 - 8 - 30 - 24 - 52



3. Complète la suite numérique suivante :

| | | | | | | | | |
|----|--|----|--|--|----|--|--|--|
| 17 | | 19 | | | 22 | | | |
|----|--|----|--|--|----|--|--|--|

4. Écris le nombre qui correspond à chaque collection de cubes.




PRÉNOM : _____

Évaluations CE1 Rentrée

MATHS

Je réponds aux questions.



C'est la rentrée.
Tirobot range 7 cahiers
rouges et 4 cahiers bleus
dans son sac.

Combien y a-t-il de cahiers
dans son sac ?

Il y a _____ cahiers dans son sac.



Robotine a 18 feutres.
Elle en donne 6 à Tirobot.

Combien a-t-elle de
feutres maintenant ?

Elle a _____ feutres .



Tirobot ramasse 10 coquillages
bleus , 10 coquillages jaunes et
encore 10 coquillages blancs.

Combien a-t-il de coquillages
dans sa caisse ?

Il a _____ coquillages dans sa caisse.

Evaluations de rentrée : septembre



Dictée de mots

ami lune vélo tomate

Dictée de phrases :

Le pirate a un bateau. (bato , bateau acceptés)

Dictée de nombres : 4 - 9 - 5 - 8 - 6 - 10 - 19 - 25 - 38 - 43

