

EVALUATION MATHÉMATIQUES CM

Nom :

D'après les évaluations

NOTE :

Date :

nationales 2009

...../2,5

1 - Complète les multiplications ci-dessous ; l'utilisation de la table de 1 est interdite.

..... x = 48
..... x = 81
..... x = 35
..... x = 63
..... x = 56

...../5

2 - Une directrice d'école achète 12 dictionnaires, pour un montant total de 180 €. Combien coûte un seul de ces dictionnaires ?

Tu peux faire tes calculs ici.

Temps modernes

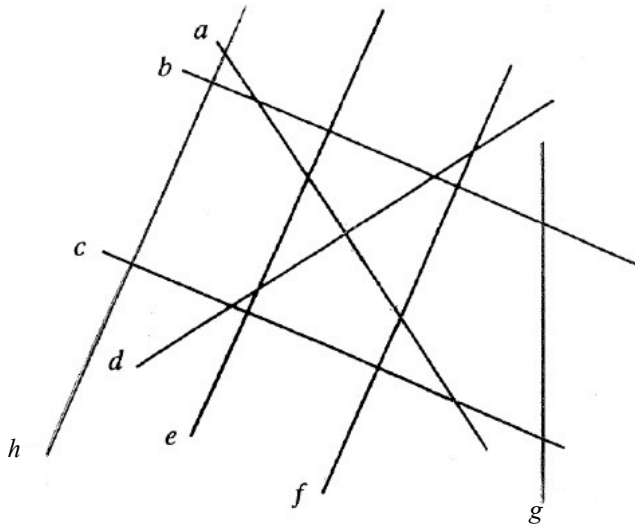
...../4

3 - Pose et effectue les opérations suivantes.

10 900 + 1278	4569 - 708
15 x 34	846 : 6

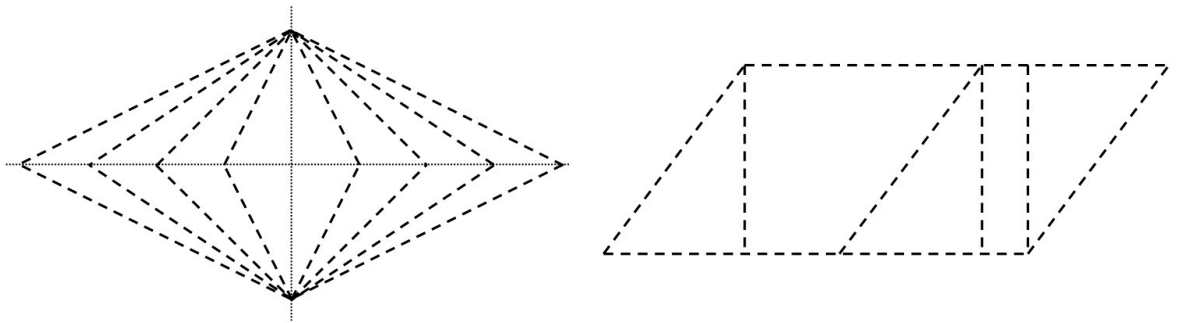
...../2

4 - Repasse en couleur la ou les droites parallèles à la droite *f*.



...../2+2

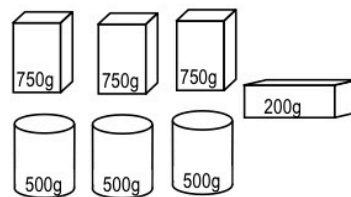
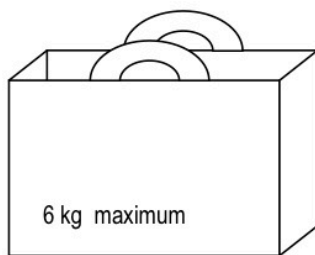
5 - Repasse en couleur les côtés d'un carré. 6 - Repasse en couleur les côtés d'un losange.



...../2,5

7 - Ce sac résistera-t-il pour transporter toutes ces provisions? Coche la bonne réponse.

- OUI
- NON



Explique ton raisonnement :